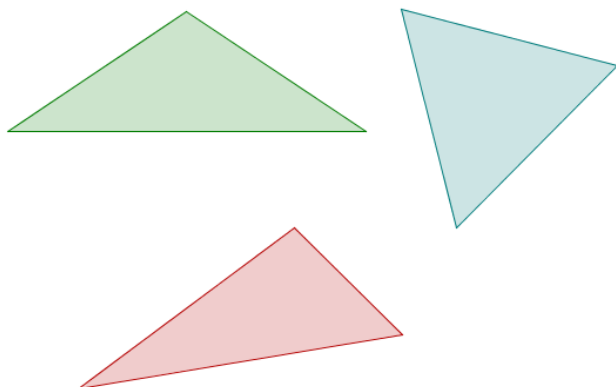
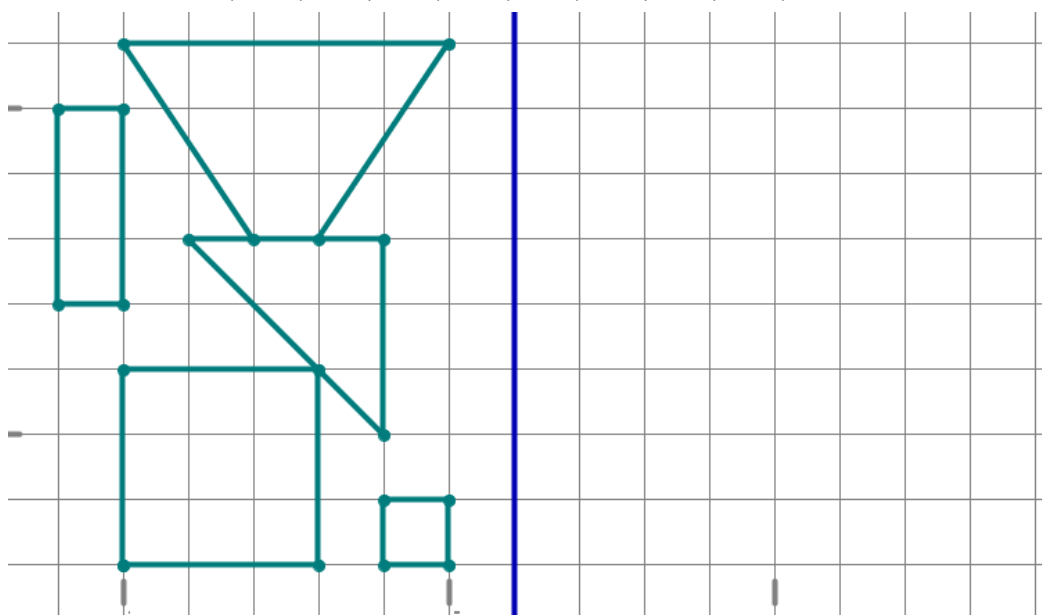
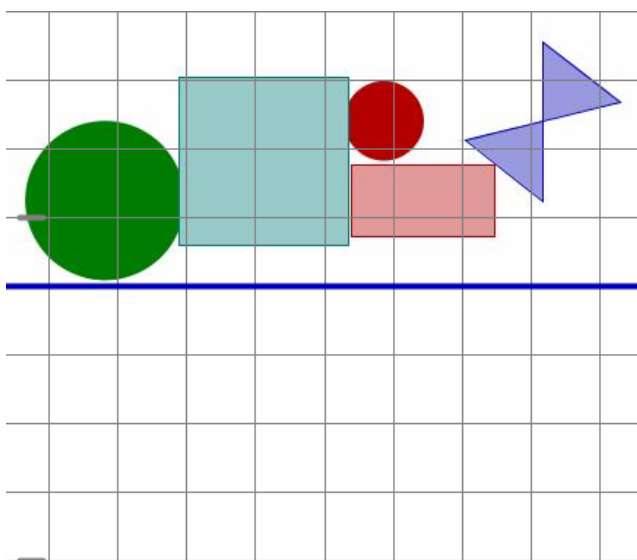


Štejemo simetrale

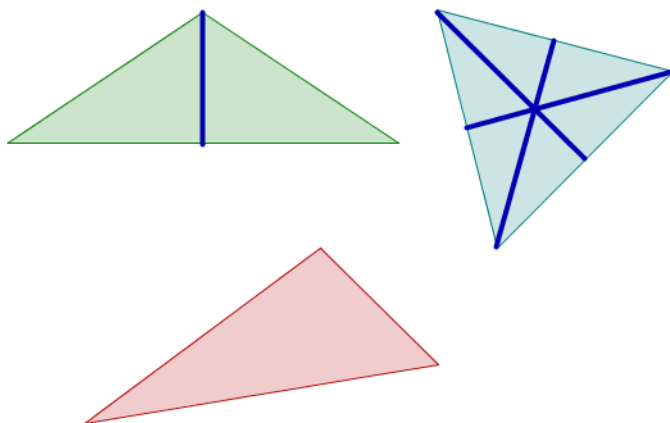
Naloga 1. Narisanim trikotnikom nariši vse simetrale in jih preštej.



Naloga 2. Sliki prezrcali prek črte. Likom na slikah preštej simetrale.



Naloga 1. Zeleni trikotnik ima eno simetralo, modri tri, rdeči trikotnik pa jih nima.



Naloga 2. Kvadrat ima štiri, pravokotnik in lik iz dveh trikotnikov pa po dve simetrali. Kroga imata toliko simetral, da jih ne moreš prešteti. Za drugo sliko je najprej prikazana rešitev, nato pa v njej še simetrale (na levi) in njihovo število (na desni).

